



ŠELMY II.



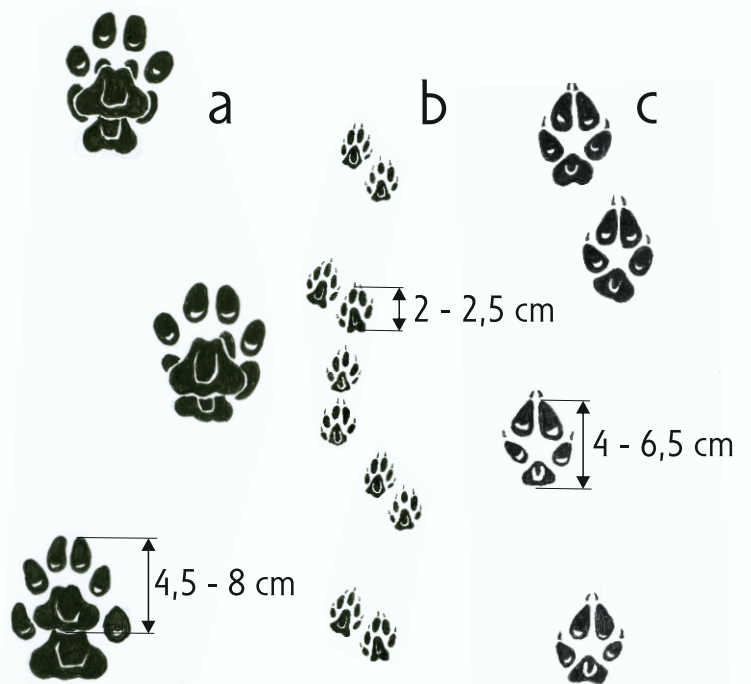

V jižních Čechách jsou nejrozšířenější čeledi lasicovití, psovití a kočkovití.
Každá má své typické znaky.

Zapiš šelmu, číslem přiřaď charakteristické znaky čeledi a spoj se správnou stopní drahou.

1 štíhlé tělo s dlouhými nohama a dlouhým chlupatým ocasem, prodloužená obličejová část lebky, nezatažitelné drápy, našlapují na prsty

2 zatažitelné drápy, při lovu využívají momentu překvapení, zkrácená obličejová část lebky, výhradně masožravé

3 protáhlé tělo, malá hlava s krátkými boltci, krátké končetiny - dobře se pohybují v norách, našlapují na celé chodidlo, případně na jeho polovinu, nezatažitelné drápy



Která šelma se prošla po dně vypuštěného rybníka?



řešení: vydra říční

Kdo koho uloví? Spoj správně šelmu a její kořist.



a

liška obecná

b



vlk obecný

c

jezevec lesní

d



rys ostrovid



řešení: liška obecná a, vlk obecný c, jezevec lesní b, rys ostrovid d